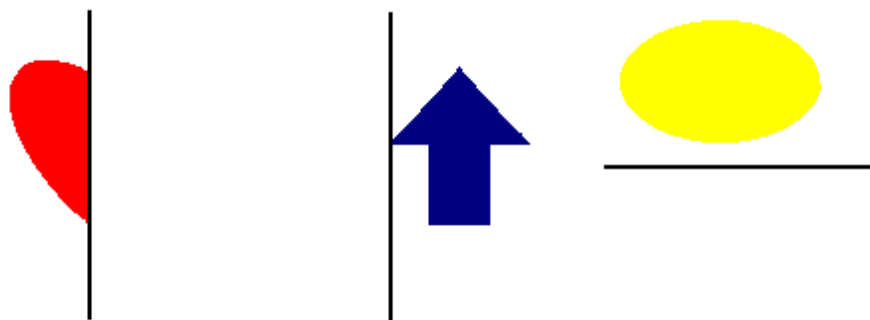
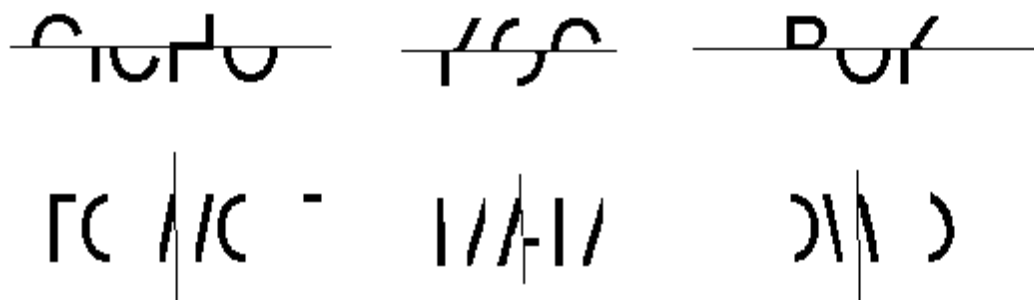


1. Za pomocą programu Paint dokonaj odbicia lustrzanego danych figur.



zad1.bmp

2. Odszyfruj wyrazy, dla których dane linie są osiami symetrii.



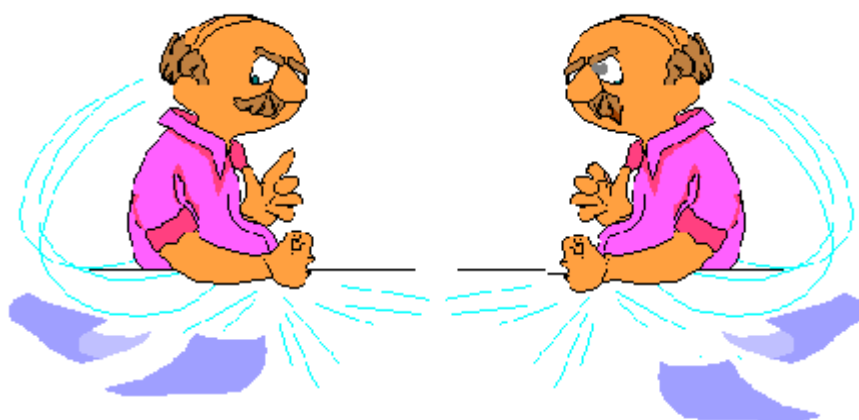
zad5.bmp

3. Rozszyfruj poniższy tekst.

Δwierciadko powiedz przecie,
kto jest najpiękniejszy w świecie.


zad6.bmp

4. Znajdź 5 różnic w rysunkach.



zad7.bmp

5. Utwórz następujący rysunek.



Po wykonaniu wszystkich zadań zapisz rysunki w **Moich dokumentach** i zgłoś się do nauczyciela.